



3.3. Ispitivanje toka funkcije

13. 11. 2020.

...je standardni postupak za skiciranje grafa funkcije $f : D \subseteq \mathbb{R} \rightarrow \mathbb{R}$.

Ispitivanje toka funkcije

...je standardni postupak za skiciranje grafa funkcije $f : D \subseteq \mathbb{R} \rightarrow \mathbb{R}$.

Objasnit ćemo ga na sljedećem primjeru:

$$f(x) := x^3 - 6x^2 + 9x = x(x^2 - 6x + 9) = x(x - 3)^2.$$

1. korak

$$f(x) := x^3 - 6x^2 + 9x = x(x^2 - 6x + 9) = x(x - 3)^2.$$

Odredimo domenu D funkcije f .

1. korak

$$f(x) := x^3 - 6x^2 + 9x = x(x^2 - 6x + 9) = x(x - 3)^2.$$

Odredimo domenu D funkcije f .

$$D = \mathcal{D}_f = \mathbb{R}.$$

2. korak

$$f(x) := x^3 - 6x^2 + 9x = x(x^2 - 6x + 9) = x(x - 3)^2.$$

Odredimo je li f :

- **parna**: za sve $x \in D$ vrijedi $-x \in D$ i $f(-x) = f(x)$

Primjer. Funkcije $e^x + e^{-x}$ i $\frac{x^4 - 3x^2 \cos x + \sin^2 x}{x^2 + 1}$ su parne.

$$f(x) := x^3 - 6x^2 + 9x = x(x^2 - 6x + 9) = x(x - 3)^2.$$

Odredimo je li f :

- **parna**: za sve $x \in D$ vrijedi $-x \in D$ i $f(-x) = f(x)$

Primjer. Funkcije $e^x + e^{-x}$ i $\frac{x^4 - 3x^2 \cos x + \sin^2 x}{x^2 + 1}$ su parne.

- **neparna**: za sve $x \in D$ vrijedi $-x \in D$ i $f(-x) = -f(x)$

Primjer. Funkcije $e^x - e^{-x}$, $\operatorname{tg} x$, $x^2 \sin x$ i x^3 su neparne.

2. korak

$$f(x) := x^3 - 6x^2 + 9x = x(x^2 - 6x + 9) = x(x - 3)^2.$$

Odredimo je li f :

- **parna**: za sve $x \in D$ vrijedi $-x \in D$ i $f(-x) = f(x)$

Primjer. Funkcije $e^x + e^{-x}$ i $\frac{x^4 - 3x^2 \cos x + \sin^2 x}{x^2 + 1}$ su parne.

- **neparna**: za sve $x \in D$ vrijedi $-x \in D$ i $f(-x) = -f(x)$

Primjer. Funkcije $e^x - e^{-x}$, $\operatorname{tg} x$, $x^2 \sin x$ i x^3 su neparne.

Funkcija f nije ni parna ni neparna ($f(-x) = -x^3 - 6x^2 - 9x$). Precizno obrazloženje: npr.

$$f(-1) = -16 \neq 4 = f(1) \quad \rightsquigarrow \quad f \text{ nije parna,}$$

$$f(-1) = -16 \neq -4 = -f(1) \quad \rightsquigarrow \quad f \text{ nije neparna.}$$

2. korak

$$f(x) := x^3 - 6x^2 + 9x = x(x^2 - 6x + 9) = x(x - 3)^2.$$

Odredimo je li f :

- **periodična** s periodom $\tau > 0$: za sve $x \in D$ vrijedi $x \pm \tau \in D$ i $f(x + \tau) = f(x)$.

$$f(x) := x^3 - 6x^2 + 9x = x(x^2 - 6x + 9) = x(x - 3)^2.$$

Odredimo je li f :

- **periodična** s periodom $\tau > 0$: za sve $x \in D$ vrijedi $x \pm \tau \in D$ i $f(x + \tau) = f(x)$.

Najmanji period (ako postoji) zove se **temeljni period** funkcije f .

2. korak

$$f(x) := x^3 - 6x^2 + 9x = x(x^2 - 6x + 9) = x(x - 3)^2.$$

Odredimo je li f :

- **periodična** s periodom $\tau > 0$: za sve $x \in D$ vrijedi $x \pm \tau \in D$ i $f(x + \tau) = f(x)$.

Najmanji period (ako postoji) zove se **temeljni period** funkcije f .

Primjer. Za sve $\omega \in \mathbb{R} \setminus \{0\}$ i $\varphi \in \mathbb{R}$:

- funkcije $\sin(\omega x + \varphi)$ i $\cos(\omega x + \varphi)$ su periodične s temeljnim periodom $\frac{2\pi}{|\omega|}$

$$f(x) := x^3 - 6x^2 + 9x = x(x^2 - 6x + 9) = x(x - 3)^2.$$

Odredimo je li f :

- **periodična** s periodom $\tau > 0$: za sve $x \in D$ vrijedi $x \pm \tau \in D$ i $f(x + \tau) = f(x)$.

Najmanji period (ako postoji) zove se **temeljni period** funkcije f .

Primjer. Za sve $\omega \in \mathbb{R} \setminus \{0\}$ i $\varphi \in \mathbb{R}$:

- funkcije $\sin(\omega x + \varphi)$ i $\cos(\omega x + \varphi)$ su periodične s temeljnim periodom $\frac{2\pi}{|\omega|}$
- funkcije $\operatorname{tg}(\omega x + \varphi)$ i $\operatorname{ctg}(\omega x + \varphi)$ su periodične s temeljnim periodom $\frac{\pi}{|\omega|}$.

2. korak

$$f(x) := x^3 - 6x^2 + 9x = x(x^2 - 6x + 9) = x(x - 3)^2.$$

Odredimo je li f :

- **periodična** s periodom $\tau > 0$: za sve $x \in D$ vrijedi $x \pm \tau \in D$ i $f(x + \tau) = f(x)$.

Najmanji period (ako postoji) zove se **temeljni period** funkcije f .

Primjer. Za sve $\omega \in \mathbb{R} \setminus \{0\}$ i $\varphi \in \mathbb{R}$:

- funkcije $\sin(\omega x + \varphi)$ i $\cos(\omega x + \varphi)$ su periodične s temeljnim periodom $\frac{2\pi}{|\omega|}$
- funkcije $\operatorname{tg}(\omega x + \varphi)$ i $\operatorname{ctg}(\omega x + \varphi)$ su periodične s temeljnim periodom $\frac{\pi}{|\omega|}$.

Funkcija f nije periodična.

3. korak

$$f(x) := x^3 - 6x^2 + 9x = x(x^2 - 6x + 9) = x(x - 3)^2.$$

Odredimo **nultočke** funkcije $f: x \in D$ za koje je $f(x) = 0$.

3. korak

$$f(x) := x^3 - 6x^2 + 9x = x(x^2 - 6x + 9) = x(x - 3)^2.$$

Odredimo **nultočke** funkcije $f: x \in D$ za koje je $f(x) = 0$.

Napomena. Nultočke funkcije f su x -koordinate sjecišta Γ_f sa x -osi.

3. korak

$$f(x) := x^3 - 6x^2 + 9x = x(x^2 - 6x + 9) = x(x - 3)^2.$$

Odredimo **nultočke** funkcije $f: x \in D$ za koje je $f(x) = 0$.

Napomena. Nultočke funkcije f su x -koordinate sjecišta Γ_f sa x -osi.

Nultočke funkcije f su 0 i 3.

3. korak

$$f(x) := x^3 - 6x^2 + 9x = x(x^2 - 6x + 9) = x(x - 3)^2.$$

Odredimo **nultočke** funkcije $f: x \in D$ za koje je $f(x) = 0$.

Napomena. Nultočke funkcije f su x -koordinate sjecišta Γ_f sa x -osi.

Nultočke funkcije f su 0 i 3.

Odredimo i intervale pozitivnosti/negativnosti funkcije f .

3. korak

$$f(x) := x^3 - 6x^2 + 9x = x(x^2 - 6x + 9) = x(x - 3)^2.$$

Odredimo **nultočke** funkcije $f: x \in D$ za koje je $f(x) = 0$.

Napomena. Nultočke funkcije f su x -koordinate sjecišta Γ_f sa x -osi.

Nultočke funkcije f su 0 i 3.

Odredimo i intervale pozitivnosti/negativnosti funkcije f . Jedini su kandidati za njihove rubove:

- rubovi domene D

3. korak

$$f(x) := x^3 - 6x^2 + 9x = x(x^2 - 6x + 9) = x(x - 3)^2.$$

Odredimo **nultočke** funkcije $f: x \in D$ za koje je $f(x) = 0$.

Napomena. Nultočke funkcije f su x -koordinate sjecišta Γ_f sa x -osi.

Nultočke funkcije f su 0 i 3.

Odredimo i intervale pozitivnosti/negativnosti funkcije f . Jedini su kandidati za njihove rubove:

- rubovi domene D

Primjer. Rubovi skupa $\langle -\infty, 3] \cup \{4\} \cup \langle 5, 2\pi \rangle \cup \langle 2\pi, +\infty \rangle$ su $-\infty, 3, 4, 5, 2\pi$ i $+\infty$.

3. korak

$$f(x) := x^3 - 6x^2 + 9x = x(x^2 - 6x + 9) = x(x - 3)^2.$$

Odredimo **nultočke** funkcije $f: x \in D$ za koje je $f(x) = 0$.

Napomena. Nultočke funkcije f su x -koordinate sjecišta Γ_f sa x -osi.

Nultočke funkcije f su 0 i 3.

Odredimo i intervale pozitivnosti/negativnosti funkcije f . Jedini su kandidati za njihove rubove:

- rubovi domene D

Primjer. Rubovi skupa $\langle -\infty, 3] \cup \{4\} \cup \langle 5, 2\pi \rangle \cup \langle 2\pi, +\infty \rangle$ su $-\infty, 3, 4, 5, 2\pi$ i $+\infty$.

- točke $x \in D$ u kojima f nije neprekidna

3. korak

$$f(x) := x^3 - 6x^2 + 9x = x(x^2 - 6x + 9) = x(x - 3)^2.$$

Odredimo **nultočke** funkcije f : $x \in D$ za koje je $f(x) = 0$.

Napomena. Nultočke funkcije f su x -koordinate sjecišta Γ_f sa x -osi.

Nultočke funkcije f su 0 i 3.

Odredimo i intervale pozitivnosti/negativnosti funkcije f . Jedini su kandidati za njihove rubove:

- rubovi domene D

Primjer. Rubovi skupa $\langle -\infty, 3] \cup \{4\} \cup \langle 5, 2\pi \rangle \cup \langle 2\pi, +\infty \rangle$ su $-\infty, 3, 4, 5, 2\pi$ i $+\infty$.

- točke $x \in D$ u kojima f nije neprekidna
- nultočke funkcije f .

3. korak

$$f(x) := x^3 - 6x^2 + 9x = x(x^2 - 6x + 9) = x(x - 3)^2.$$

Odredimo **nultočke** funkcije f : $x \in D$ za koje je $f(x) = 0$.

Napomena. Nultočke funkcije f su x -koordinate sjecišta Γ_f sa x -osi.

Nultočke funkcije f su 0 i 3.

Odredimo i intervale pozitivnosti/negativnosti funkcije f . Jedini su kandidati za njihove rubove:

- rubovi domene D

Primjer. Rubovi skupa $\langle -\infty, 3] \cup \{4\} \cup \langle 5, 2\pi \rangle \cup \langle 2\pi, +\infty \rangle$ su $-\infty, 3, 4, 5, 2\pi$ i $+\infty$.

- točke $x \in D$ u kojima f nije neprekidna
- nultočke funkcije f .

Rubovi domene $D = \mathbb{R} = \langle -\infty, +\infty \rangle$: $-\infty, +\infty$.

3. korak

$$f(x) := x^3 - 6x^2 + 9x = x(x^2 - 6x + 9) = x(x - 3)^2.$$

Odredimo **nultočke** funkcije f : $x \in D$ za koje je $f(x) = 0$.

Napomena. Nultočke funkcije f su x -koordinate sjecišta Γ_f sa x -osi.

Nultočke funkcije f su 0 i 3.

Odredimo i intervale pozitivnosti/negativnosti funkcije f . Jedini su kandidati za njihove rubove:

- rubovi domene D

Primjer. Rubovi skupa $\langle -\infty, 3] \cup \{4\} \cup \langle 5, 2\pi \rangle \cup \langle 2\pi, +\infty \rangle$ su $-\infty, 3, 4, 5, 2\pi$ i $+\infty$.

- točke $x \in D$ u kojima f nije neprekidna
- nultočke funkcije f .

Rubovi domene $D = \mathbb{R} = \langle -\infty, +\infty \rangle$: $-\infty, +\infty$.

	$-\infty$	0	3	$+\infty$
f				

3. korak

$$f(x) := x^3 - 6x^2 + 9x = x(x^2 - 6x + 9) = x(x - 3)^2.$$

Odredimo **nultočke** funkcije f : $x \in D$ za koje je $f(x) = 0$.

Napomena. Nultočke funkcije f su x -koordinate sjecišta Γ_f sa x -osi.

Nultočke funkcije f su 0 i 3.

Odredimo i intervale pozitivnosti/negativnosti funkcije f . Jedini su kandidati za njihove rubove:

- rubovi domene D

Primjer. Rubovi skupa $\langle -\infty, 3] \cup \{4\} \cup \langle 5, 2\pi \rangle \cup \langle 2\pi, +\infty \rangle$ su $-\infty, 3, 4, 5, 2\pi$ i $+\infty$.

- točke $x \in D$ u kojima f nije neprekidna
- nultočke funkcije f .

Rubovi domene $D = \mathbb{R} = \langle -\infty, +\infty \rangle$: $-\infty, +\infty$.

	$-\infty$	0	3	$+\infty$
f	-	+	+	

4. korak

Odredimo **intervale rasta i pada** te **lokalne i globalne ekstreme** funkcije f .

4. korak

Odredimo intervale rasta i pada te lokalne i globalne ekstreme funkcije f .

Globalni ekstremi funkcije $f : D \subseteq \mathbb{R} \rightarrow \mathbb{R}$:

- **točka globalnog minimuma:** $x_0 \in D$ takav da je

$$f(x_0) \leq f(x) \quad \text{za sve } x \in D$$

- **točka globalnog maksimuma:** $x_0 \in D$ takav da je

$$f(x_0) \geq f(x) \quad \text{za sve } x \in D.$$

4. korak

Odredimo intervale rasta i pada te lokalne i globalne ekstreme funkcije f .

Globalni ekstremi funkcije $f : D \subseteq \mathbb{R} \rightarrow \mathbb{R}$:

- **točka globalnog minimuma:** $x_0 \in D$ takav da je

$$f(x_0) \leq f(x) \quad \text{za sve } x \in D$$

- **točka globalnog maksimuma:** $x_0 \in D$ takav da je

$$f(x_0) \geq f(x) \quad \text{za sve } x \in D.$$

Lokalni ekstremi funkcije $f : D \subseteq \mathbb{R} \rightarrow \mathbb{R}$:

- **točka lokalnog minimuma:** $x_0 \in D$ sa svojstvom da postoji otvoreni interval $I \ni x_0$ takav da je

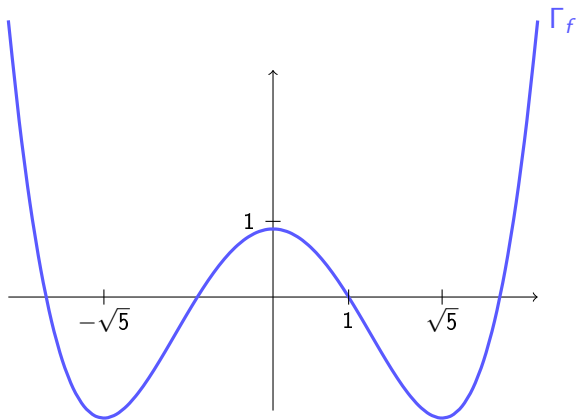
$$f(x_0) \leq f(x) \quad \text{za sve } x \in D \cap I.$$

- **točka lokalnog maksimuma:** $x_0 \in D$ sa svojstvom da postoji otvoreni interval $I \ni x_0$ takav da je

$$f(x_0) \geq f(x) \quad \text{za sve } x \in D \cap I.$$

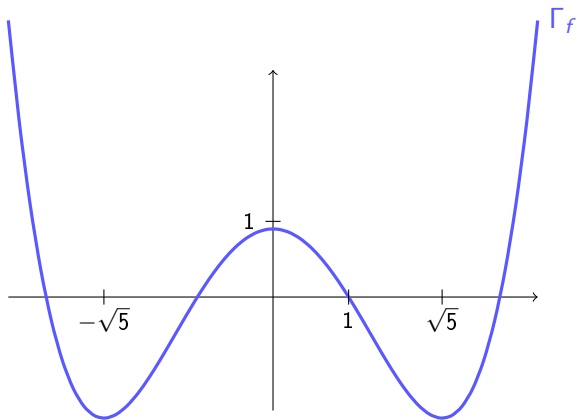
4. korak

Primjer.



4. korak

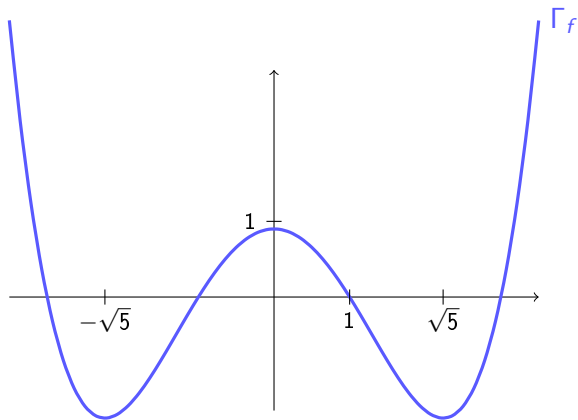
Primjer.



Točke lokalnog minimuma:

4. korak

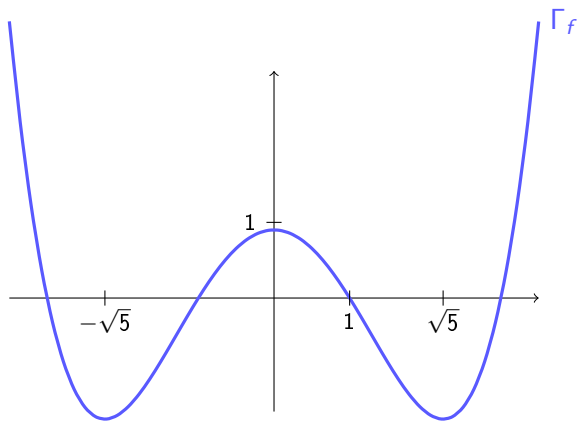
Primjer.



Točke lokalnog minimuma: $-\sqrt{5}$ i $\sqrt{5}$.

4. korak

Primjer.

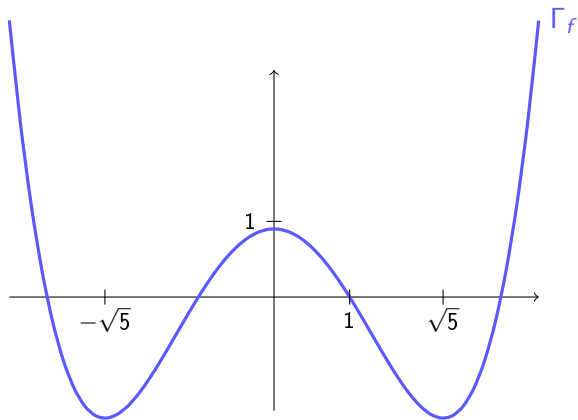


Točke lokalnog minimuma: $-\sqrt{5}$ i $\sqrt{5}$.

Točke lokalnog maksimuma:

4. korak

Primjer.

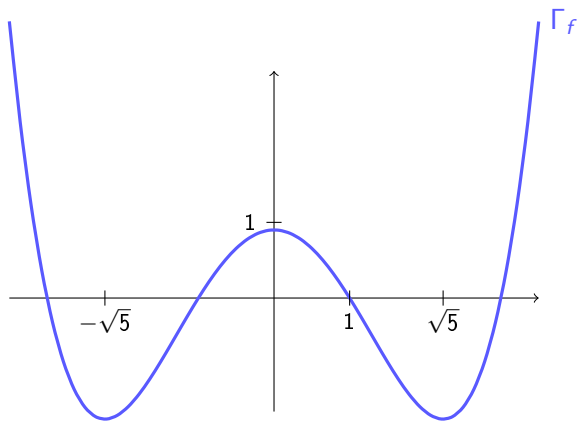


Točke lokalnog minimuma: $-\sqrt{5}$ i $\sqrt{5}$.

Točke lokalnog maksimuma: 0 .

4. korak

Primjer.



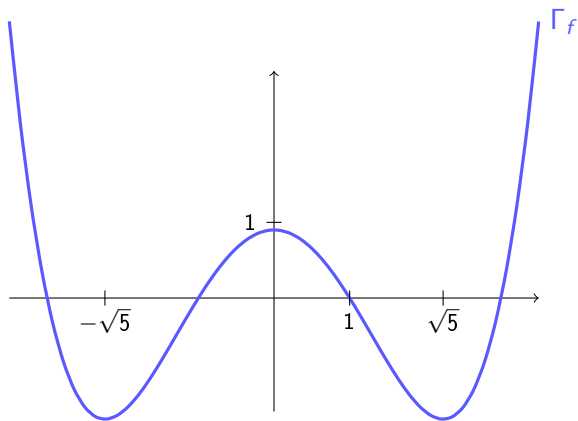
Točke lokalnog minimuma: $-\sqrt{5}$ i $\sqrt{5}$.

Točke lokalnog maksimuma: 0 .

Točke globalnog minimuma:

4. korak

Primjer.



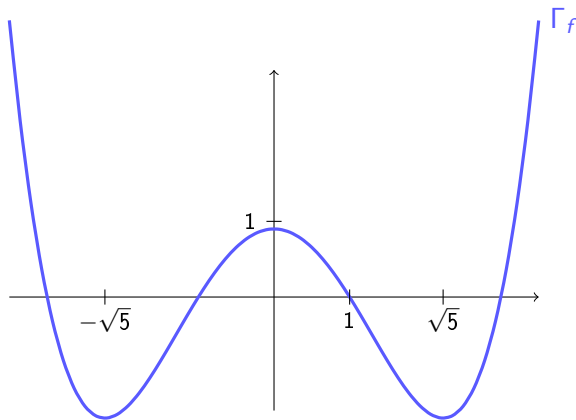
Točke lokalnog minimuma: $-\sqrt{5}$ i $\sqrt{5}$.

Točke lokalnog maksimuma: 0 .

Točke globalnog minimuma: $-\sqrt{5}$ i $\sqrt{5}$.

4. korak

Primjer.



Točke lokalnog minimuma: $-\sqrt{5}$ i $\sqrt{5}$.

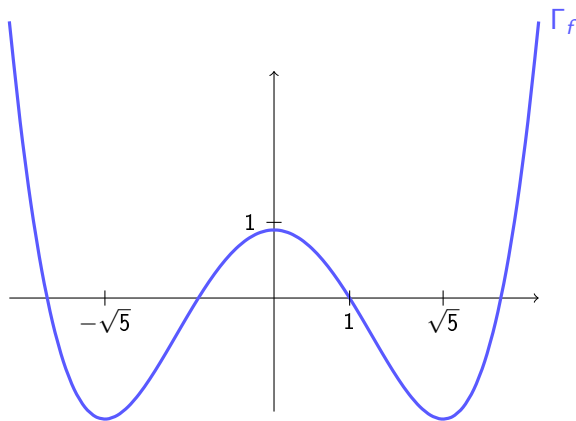
Točke lokalnog maksimuma: 0 .

Točke globalnog minimuma: $-\sqrt{5}$ i $\sqrt{5}$.

Točke globalnog maksimuma:

4. korak

Primjer.



Točke lokalnog minimuma: $-\sqrt{5}$ i $\sqrt{5}$.

Točke lokalnog maksimuma: 0 .

Točke globalnog minimuma: $-\sqrt{5}$ i $\sqrt{5}$.

Točke globalnog maksimuma: nema ih.

4. korak

Odredimo **intervale rasta i pada** te **lokalne i globalne ekstreme** funkcije f .

4. korak

Odredimo intervale rasta i pada te lokalne i globalne ekstreme funkcije f .

Teorem. Neka je $I \subseteq D$ interval. Tada vrijedi:

- Ako je $f' > 0$ na I , tada f **strogo raste** na I , tj. za sve $x_1, x_2 \in I$ vrijedi

$$x_1 < x_2 \quad \Rightarrow \quad f(x_1) < f(x_2).$$

- Ako je $f' < 0$ na I , tada f **strogo pada** na I , tj. za sve $x_1, x_2 \in I$ vrijedi

$$x_1 < x_2 \quad \Rightarrow \quad f(x_1) > f(x_2).$$

4. korak

Odredimo **intervale rasta i pada** te **lokalne i globalne ekstreme** funkcije f .

Teorem. Neka je $I \subseteq D$ interval. Tada vrijedi:

- Ako je $f' > 0$ na I , tada f **strogo raste** na I , tj. za sve $x_1, x_2 \in I$ vrijedi

$$x_1 < x_2 \quad \Rightarrow \quad f(x_1) < f(x_2).$$

- Ako je $f' < 0$ na I , tada f **strogo pada** na I , tj. za sve $x_1, x_2 \in I$ vrijedi

$$x_1 < x_2 \quad \Rightarrow \quad f(x_1) > f(x_2).$$

Rubovi intervala na kojima je ili $f' > 0$ ili $f' < 0$ (\rightsquigarrow jedini kandidati za rubove intervala rasta i pada):

- rubovi domene D

4. korak

Odredimo intervale rasta i pada te lokalne i globalne ekstreme funkcije f .

Teorem. Neka je $I \subseteq D$ interval. Tada vrijedi:

- Ako je $f' > 0$ na I , tada f **strogo raste** na I , tj. za sve $x_1, x_2 \in I$ vrijedi

$$x_1 < x_2 \quad \Rightarrow \quad f(x_1) < f(x_2).$$

- Ako je $f' < 0$ na I , tada f **strogo pada** na I , tj. za sve $x_1, x_2 \in I$ vrijedi

$$x_1 < x_2 \quad \Rightarrow \quad f(x_1) > f(x_2).$$

Rubovi intervala na kojima je ili $f' > 0$ ili $f' < 0$ (\rightsquigarrow jedini kandidati za rubove intervala rasta i pada):

- rubovi domene D
- točke $x \in D$ u kojima f' nije definirana ili nije neprekidna

4. korak

Odredimo intervale rasta i pada te lokalne i globalne ekstreme funkcije f .

Teorem. Neka je $I \subseteq D$ interval. Tada vrijedi:

- Ako je $f' > 0$ na I , tada f **strogo raste** na I , tj. za sve $x_1, x_2 \in I$ vrijedi

$$x_1 < x_2 \quad \Rightarrow \quad f(x_1) < f(x_2).$$

- Ako je $f' < 0$ na I , tada f **strogo pada** na I , tj. za sve $x_1, x_2 \in I$ vrijedi

$$x_1 < x_2 \quad \Rightarrow \quad f(x_1) > f(x_2).$$

Rubovi intervala na kojima je ili $f' > 0$ ili $f' < 0$ (\rightsquigarrow jedini kandidati za rubove intervala rasta i pada):

- rubovi domene D
- točke $x \in D$ u kojima f' nije definirana ili nije neprekidna
- **stacionarne točke** funkcije f : $x \in D$ za koje je $f'(x) = 0$.

4. korak

Odredimo **intervale rasta i pada** te **lokalne i globalne ekstreme** funkcije f .

$$f(x) := x^3 - 6x^2 + 9x = x(x^2 - 6x + 9) = x(x - 3)^2.$$

4. korak

Odredimo **intervale rasta i pada** te **lokalne i globalne ekstreme** funkcije f .

$$f(x) := x^3 - 6x^2 + 9x = x(x^2 - 6x + 9) = x(x - 3)^2.$$

- $D = \mathbb{R} \rightsquigarrow$ Rubovi domene: $-\infty, +\infty$.

4. korak

Odredimo **intervale rasta i pada** te **lokalne i globalne ekstreme** funkcije f .

$$f(x) := x^3 - 6x^2 + 9x = x(x^2 - 6x + 9) = x(x - 3)^2.$$

- $D = \mathbb{R} \rightsquigarrow$ Rubovi domene: $-\infty, +\infty$.
- $f'(x) = 3x^2 - 12x + 9$

4. korak

Odredimo **intervale rasta i pada** te **lokalne i globalne ekstreme** funkcije f .

$$f(x) := x^3 - 6x^2 + 9x = x(x^2 - 6x + 9) = x(x - 3)^2.$$

- $D = \mathbb{R} \rightsquigarrow$ Rubovi domene: $-\infty, +\infty$.
- $f'(x) = 3x^2 - 12x + 9 = 3(x^2 - 4x + 3)$

4. korak

Odredimo **intervale rasta i pada** te **lokalne i globalne ekstreme** funkcije f .

$$f(x) := x^3 - 6x^2 + 9x = x(x^2 - 6x + 9) = x(x - 3)^2.$$

- $D = \mathbb{R} \rightsquigarrow$ Rubovi domene: $-\infty, +\infty$.
- $f'(x) = 3x^2 - 12x + 9 = 3(x^2 - 4x + 3) = 3(x - 1)(x - 3)$

4. korak

Odredimo **intervale rasta i pada** te **lokalne i globalne ekstreme** funkcije f .

$$f(x) := x^3 - 6x^2 + 9x = x(x^2 - 6x + 9) = x(x - 3)^2.$$

- $D = \mathbb{R} \rightsquigarrow$ Rubovi domene: $-\infty, +\infty$.
- $f'(x) = 3x^2 - 12x + 9 = 3(x^2 - 4x + 3) = 3(x - 1)(x - 3) \rightsquigarrow$ Stacionarne točke: **1, 3**.

4. korak

Odredimo intervale rasta i pada te lokalne i globalne ekstreme funkcije f .

$$f(x) := x^3 - 6x^2 + 9x = x(x^2 - 6x + 9) = x(x - 3)^2.$$

- $D = \mathbb{R} \rightsquigarrow$ Rubovi domene: $-\infty, +\infty$.
- $f'(x) = 3x^2 - 12x + 9 = 3(x^2 - 4x + 3) = 3(x - 1)(x - 3) \rightsquigarrow$ Stacionarne točke: 1, 3.

	$-\infty$	1	3	$+\infty$
f				
f'				

4. korak

Odredimo intervale rasta i pada te lokalne i globalne ekstreme funkcije f .

$$f(x) := x^3 - 6x^2 + 9x = x(x^2 - 6x + 9) = x(x - 3)^2.$$

- $D = \mathbb{R} \rightsquigarrow$ Rubovi domene: $-\infty, +\infty$.
- $f'(x) = 3x^2 - 12x + 9 = 3(x^2 - 4x + 3) = 3(x - 1)(x - 3) \rightsquigarrow$ Stacionarne točke: 1, 3.




	$-\infty$	1	3	$+\infty$
f				
f'	+	-	+	

4. korak

Odredimo intervale rasta i pada te lokalne i globalne ekstreme funkcije f .

$$f(x) := x^3 - 6x^2 + 9x = x(x^2 - 6x + 9) = x(x - 3)^2.$$

- $D = \mathbb{R} \rightsquigarrow$ Rubovi domene: $-\infty, +\infty$.
- $f'(x) = 3x^2 - 12x + 9 = 3(x^2 - 4x + 3) = 3(x - 1)(x - 3) \rightsquigarrow$ Stacionarne točke: 1, 3.




	$-\infty$	1	3	$+\infty$
f				
f'	+	-	+	

4. korak

Odredimo intervale rasta i pada te lokalne i globalne ekstreme funkcije f .

$$f(x) := x^3 - 6x^2 + 9x = x(x^2 - 6x + 9) = x(x - 3)^2.$$

- $D = \mathbb{R} \rightsquigarrow$ Rubovi domene: $-\infty, +\infty$.
- $f'(x) = 3x^2 - 12x + 9 = 3(x^2 - 4x + 3) = 3(x - 1)(x - 3) \rightsquigarrow$ Stacionarne točke: 1, 3.




	$-\infty$	lok. max 1	lok. min 3	$+\infty$
f				
f'	+	-	+	

4. korak

Odredimo intervale rasta i pada te lokalne i globalne ekstreme funkcije f .

$$f(x) := x^3 - 6x^2 + 9x = x(x^2 - 6x + 9) = x(x - 3)^2.$$

- $D = \mathbb{R} \rightsquigarrow$ Rubovi domene: $-\infty, +\infty$.
- $f'(x) = 3x^2 - 12x + 9 = 3(x^2 - 4x + 3) = 3(x - 1)(x - 3) \rightsquigarrow$ Stacionarne točke: 1, 3.

	$-\infty$	lok. max 1	lok. min 3	$+\infty$
f				
f'	+	-	+	
$f(x)$	$-\infty \leftarrow$			$\rightarrow +\infty$

5. korak


Odredimo **intervale konveksnosti i konkavnosti** funkcije f .

5. korak

Odredimo **intervale konveksnosti i konkavnosti** funkcije f .

Teorem. Neka je $I \subseteq D$ interval. Tada vrijedi:

- Ako je $f'' > 0$ na I , tada je f **konveksna** na I , tj. za sve $x_1, x_2 \in I$ je dužina s rubovima $(x_1, f(x_1))$ i $(x_2, f(x_2))$ iznad Γ_f .




5. korak

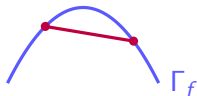
Odredimo **intervale konveksnosti i konkavnosti** funkcije f .

Teorem. Neka je $I \subseteq D$ interval. Tada vrijedi:

- Ako je $f'' > 0$ na I , tada je f **konveksna** na I , tj. za sve $x_1, x_2 \in I$ je dužina s rubovima $(x_1, f(x_1))$ i $(x_2, f(x_2))$ iznad Γ_f .



- Ako je $f'' < 0$ na I , tada je f **konkavna** na I , tj. za sve $x_1, x_2 \in I$ je dužina s rubovima $(x_1, f(x_1))$ i $(x_2, f(x_2))$ ispod Γ_f .




5. korak

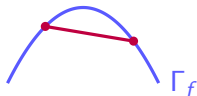
Odredimo intervale konveksnosti i konkavnosti funkcije f .

Teorem. Neka je $I \subseteq D$ interval. Tada vrijedi:

- Ako je $f'' > 0$ na I , tada je f **konveksna** na I , tj. za sve $x_1, x_2 \in I$ je dužina s rubovima $(x_1, f(x_1))$ i $(x_2, f(x_2))$ iznad Γ_f .



- Ako je $f'' < 0$ na I , tada je f **konkavna** na I , tj. za sve $x_1, x_2 \in I$ je dužina s rubovima $(x_1, f(x_1))$ i $(x_2, f(x_2))$ ispod Γ_f .



Jedini kandidati za rubove intervala konveksnosti/konkavnosti:

- rubovi domene D
- točke $x \in D$ u kojima f'' nije definirana ili nije neprekidna
- točke $x \in D$ za koje je $f''(x) = 0$.

5. korak

Odredimo **intervale konveksnosti i konkavnosti** funkcije f .

$$f(x) := x^3 - 6x^2 + 9x = x(x^2 - 6x + 9) = x(x - 3)^2.$$

5. korak

Odredimo **intervale konveksnosti i konkavnosti** funkcije f .

$$f(x) := x^3 - 6x^2 + 9x = x(x^2 - 6x + 9) = x(x - 3)^2.$$

- $D = \mathbb{R} \rightsquigarrow$ Rubovi domene: $-\infty, +\infty$.

5. korak

Odredimo **intervale konveksnosti i konkavnosti** funkcije f .

$$f(x) := x^3 - 6x^2 + 9x = x(x^2 - 6x + 9) = x(x - 3)^2.$$

- $D = \mathbb{R} \rightsquigarrow$ Rubovi domene: $-\infty, +\infty$.
- $f'(x) = 3x^2 - 12x + 9$

Odredimo **intervale konveksnosti i konkavnosti** funkcije f .

$$f(x) := x^3 - 6x^2 + 9x = x(x^2 - 6x + 9) = x(x - 3)^2.$$

- $D = \mathbb{R} \rightsquigarrow$ Rubovi domene: $-\infty, +\infty$.
- $f'(x) = 3x^2 - 12x + 9 \rightsquigarrow f''(x) = 6x - 12 = 6(x - 2)$

Odredimo **intervale konveksnosti i konkavnosti** funkcije f .

$$f(x) := x^3 - 6x^2 + 9x = x(x^2 - 6x + 9) = x(x - 3)^2.$$

- $D = \mathbb{R} \rightsquigarrow$ Rubovi domene: $-\infty, +\infty$.
- $f'(x) = 3x^2 - 12x + 9 \rightsquigarrow f''(x) = 6x - 12 = 6(x - 2) \rightsquigarrow f''(x) = 0 \Leftrightarrow x = 2$.

5. korak

Odredimo **intervale konveksnosti i konkavnosti** funkcije f .

$$f(x) := x^3 - 6x^2 + 9x = x(x^2 - 6x + 9) = x(x - 3)^2.$$

- $D = \mathbb{R} \rightsquigarrow$ Rubovi domene: $-\infty, +\infty$.
- $f'(x) = 3x^2 - 12x + 9 \rightsquigarrow f''(x) = 6x - 12 = 6(x - 2) \rightsquigarrow f''(x) = 0 \Leftrightarrow x = 2$.

	$-\infty$	2	$+\infty$
f			
f''			

5. korak

Odredimo **intervale konveksnosti i konkavnosti** funkcije f .

$$f(x) := x^3 - 6x^2 + 9x = x(x^2 - 6x + 9) = x(x - 3)^2.$$

- $D = \mathbb{R} \rightsquigarrow$ Rubovi domene: $-\infty, +\infty$.
- $f'(x) = 3x^2 - 12x + 9 \rightsquigarrow f''(x) = 6x - 12 = 6(x - 2) \rightsquigarrow f''(x) = 0 \Leftrightarrow x = 2$.

	$-\infty$	2	$+\infty$
f			
f''	$-$	$+$	

5. korak

Odredimo **intervale konveksnosti i konkavnosti** funkcije f .

$$f(x) := x^3 - 6x^2 + 9x = x(x^2 - 6x + 9) = x(x - 3)^2.$$

- $D = \mathbb{R} \rightsquigarrow$ Rubovi domene: $-\infty, +\infty$.
- $f'(x) = 3x^2 - 12x + 9 \rightsquigarrow f''(x) = 6x - 12 = 6(x - 2) \rightsquigarrow f''(x) = 0 \Leftrightarrow x = 2$.

	$-\infty$	2	$+\infty$
f	\cap	\cup	
f''	$-$	$+$	

Odredimo **asimptote** funkcije f .

$$f(x) := x^3 - 6x^2 + 9x = x(x^2 - 6x + 9) = x(x - 3)^2.$$

Odredimo **asimptote** funkcije f .

$$f(x) := x^3 - 6x^2 + 9x = x(x^2 - 6x + 9) = x(x - 3)^2.$$

Funkcija f je polinom stupnja > 1 pa nema asimptota.

6. korak

Odredimo **asimptote** funkcije f .

$$f(x) := x^3 - 6x^2 + 9x = x(x^2 - 6x + 9) = x(x - 3)^2.$$

Funkcija f je polinom stupnja > 1 pa nema asimptota.

Detaljnije o određivanju asimptota malo kasnije.

7. korak

Rezultate koraka 3–6 korisno je unijeti u zajedničku tablicu.

Dakle, na vrhu tablice su kandidati za rubove intervala pozitivnosti/negativnosti, rasta/pada odnosno konveksnosti/konkavnosti.

	$-\infty$	0	lok. max 1	2	lok. min 3	$+\infty$
f	$\times \nearrow - \cap 0 \nearrow + \cap$	$\searrow + \cap$	$\searrow + \cup 0 \nearrow + \cup$	\times		
f'	$\times +$	$+$	$0 -$	$-$	$0 +$	\times
f''	$\times -$	$-$	$-$	$0 +$	$+$	\times
$f(x)$	$-\infty \leftarrow$	0	4	2	0	$\rightarrow +\infty$

8. korak

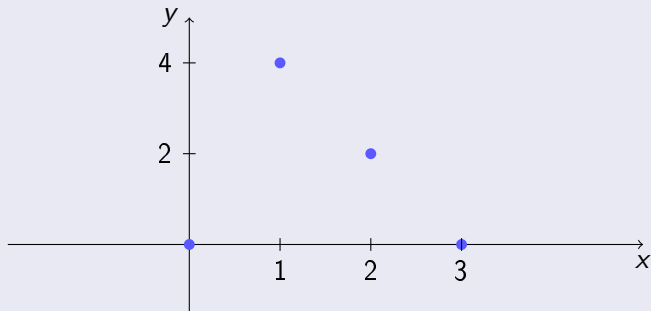
Temeljem tablice iz 7. koraka skiciramo Γ_f .

	$-\infty$		0		lok. max 1		2		lok. min 3		$+\infty$			
f	×	↗	- ∩	0	↗	+ ∩	↘	+ ∩	↘	+ U	0	↗	+ U	×
f'	×		+		+	0	-		-	0	+		×	
f''	×		-		-		-	0	+		+		×	
$f(x)$		$-\infty \leftarrow$	0		4		2		0		$\rightarrow +\infty$			

8. korak

Temeljem tablice iz 7. koraka skiciramo Γ_f .

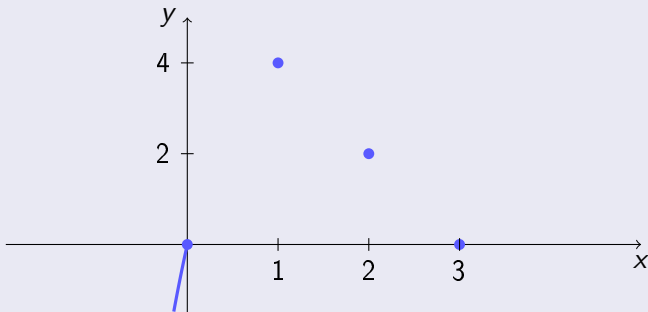
	$-\infty$		0		lok. max		1		2		lok. min		3		$+\infty$				
f	\times	\nearrow	$-$	\cap	0	\nearrow	$+$	\cap	\searrow	$+$	\cap	\searrow	$+$	U	0	\nearrow	$+$	U	\times
f'	\times		$+$			$+$	0		$-$		$-$		0		$+$		$+$		\times
f''	\times		$-$			$-$			$-$		0		$+$		0		$+$		\times
$f(x)$		$-\infty \leftarrow$		0			4			2			0						$\rightarrow +\infty$



8. korak

Temeljem tablice iz 7. koraka skiciramo Γ_f .

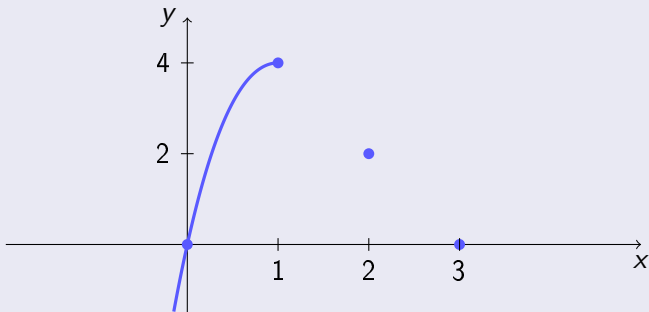
	$-\infty$		0		lok. max		1		2		lok. min		3		$+\infty$				
f	×	↗	-	∩	0	↗	+	∩	↘	+	∩	↘	+	U	0	↗	+	U	×
f'	×		+			+		0		-		-		0		+		+	×
f''	×		-			-		-		0		+		0		+		+	×
$f(x)$		$-\infty \leftarrow$		0			4		2			0							$\rightarrow +\infty$



8. korak

Temeljem tablice iz 7. koraka skiciramo Γ_f .

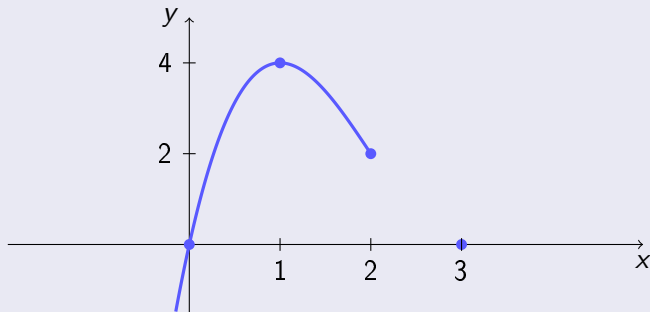
	$-\infty$		0	lok. max			1	2	lok. min			3	$+\infty$						
f	\times	\nearrow	$- \cap$	0	\nearrow	$+$	\cap	\searrow	$+$	\cap	\searrow	$+$	\cup	0	\nearrow	$+$	\cup	\times	
f'	\times		$+$			$+$	0		$-$			$-$	0		$+$		$+$	\times	
f''	\times		$-$			$-$			$-$	0		$+$		0		$+$		$+$	\times
$f(x)$		$-\infty \leftarrow$		0			4			2			0					$\rightarrow +\infty$	



8. korak

Temeljem tablice iz 7. koraka skiciramo Γ_f .

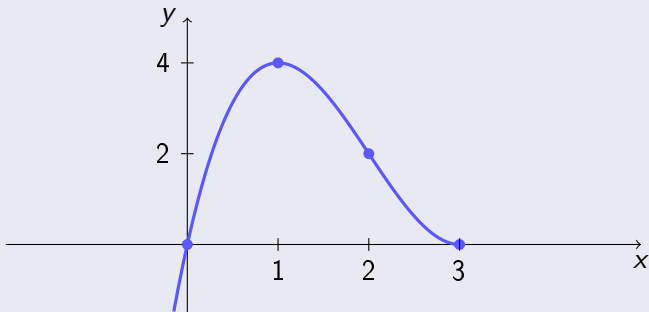
	$-\infty$		0	lok. max			1	2	lok. min			3	$+\infty$						
f	\times	\nearrow	$-$	\cap	0	\nearrow	$+$	\cap	\searrow	$+$	\cap	\searrow	$+$	\cup	0	\nearrow	$+$	\cup	\times
f'	\times		$+$			$+$	0		$-$			$-$	0		$+$			$+$	\times
f''	\times		$-$			$-$			$-$			0		$+$				$+$	\times
$f(x)$		$-\infty \leftarrow$		0			4			2			0						$\rightarrow +\infty$



8. korak

Temeljem tablice iz 7. koraka skiciramo Γ_f .

	$-\infty$		0	lok. max			1	2	lok. min			3	$+\infty$						
f	\times	\nearrow	$-$	\cap	0	\nearrow	$+$	\cap	\searrow	$+$	\cap	\searrow	$+$	\cup	0	\nearrow	$+$	\cup	\times
f'	\times		$+$			$+$		0		$-$			$-$		0		$+$		\times
f''	\times		$-$			$-$				$-$			0		$+$			$+$	\times
$f(x)$		$-\infty \leftarrow$		0			4			2			0						$\rightarrow +\infty$



8. korak

Temeljem tablice iz 7. koraka skiciramo Γ_f .

	$-\infty$		0	lok. max			1	2	lok. min			3		$+\infty$				
f	\times	\nearrow	$- \cap$	0	\nearrow	$+$	\cap	\searrow	$+$	\cap	\searrow	$+$	\cup	0	\nearrow	$+$	\cup	\times
f'	\times		$+$		$+$		0		$-$		$-$		0		$+$		$+$	\times
f''	\times		$-$		$-$				$-$		0		$+$		$+$		$+$	\times
$f(x)$		$-\infty \leftarrow$		0			4				2			0				$\rightarrow +\infty$

